




Write each missing number.




1		3		5		7			10
---	--	---	--	---	--	---	--	--	----




11		13		15		17			20
----	--	----	--	----	--	----	--	--	----




21		23		25		27			30
----	--	----	--	----	--	----	--	--	----




31		33		35		37			40
----	--	----	--	----	--	----	--	--	----




41		43		45		47			50
----	--	----	--	----	--	----	--	--	----




51		53		55		57			60
----	--	----	--	----	--	----	--	--	----




61		63		65		67			70
----	--	----	--	----	--	----	--	--	----



71		73		75		77			80
----	--	----	--	----	--	----	--	--	----



81		83		85		87			90
----	--	----	--	----	--	----	--	--	----



91		93		95		97			100
----	--	----	--	----	--	----	--	--	-----