











Write each missing number.



	1										10	
---	---	--	--	--	--	--	--	--	--	--	----	---



	11										20	
---	----	--	--	--	--	--	--	--	--	--	----	---



	21										30	
---	----	--	--	--	--	--	--	--	--	--	----	---



	31										40	
---	----	--	--	--	--	--	--	--	--	--	----	---



	41										50	
--	----	--	--	--	--	--	--	--	--	--	----	---

	51										60	
---	----	--	--	--	--	--	--	--	--	--	----	---

	61										70	
---	----	--	--	--	--	--	--	--	--	--	----	---

	71										80	
---	----	--	--	--	--	--	--	--	--	--	----	---

	81										90	
---	----	--	--	--	--	--	--	--	--	--	----	---

	91										100	
---	----	--	--	--	--	--	--	--	--	--	-----	---